

**Муниципальный этап всероссийской олимпиады школьников  
2025-2026 учебный год  
География  
11 класс**

Время выполнения всех заданий – 165 минут (2 часа 45 мин)  
Максимальная оценка – 100 баллов

**Теоретический тур  
Максимальное количество баллов – 70**

Длительность теоретического тура: 120 минут

**Задача 1 (10 баллов)**

Из пункта А (55° с.ш., 30°30' в.д. со скоростью 700 км/час, а также из пункта Б (55° с.ш., 120°30' в.д.) с такую же скоростью одновременно навстречу вылетели два самолета.


**Определите:**

1. На какой долготе они встретятся, если рейсы беспосадочные и проходят на одной высоте.
2. Местное и поясное время в момент встречи, если всемирное время – 8 часов.

**Задача 2 (20 баллов)**

По контуру и описанию определите государство, ответьте на вопросы и выполните задание на контурной карте.

1. Эта страна – одна из древнейших на своём континенте. Свое название она получила от одного из крупнейших городов. Одна треть населения страны не имеет образования, хотя здесь расположен один из древнейших университетов Европы – Коимбра (создан в 1290 г.). Но практически все местные жители играют на музыкальных инструментах. Здесь находится второй по длине в Европе мост – Мост да Гама (до открытия Крымского моста он занимал лидирующую позицию). Эта страна – родина мореплавателя, совершившего первое кругосветное путешествие. Любимый вид спорта в стране – футбол. Площадь страны – 92 225 км<sup>2</sup>, население – 10,4 млн человек.

	<ol style="list-style-type: none"> <li>1. Название государства:</li> <li>2. Столица:</li> <li>3. Где находится (материк или часть света, полуостров):</li> <li>4. Откуда происходит название полуострова:</li> <li>5. Чем омывается:</li> <li>6. Страна-сосед со столицей:</li> <li>7. Благодаря какому городу страна получила название:</li> <li>8. Форма правления:</li> <li>9. Рассчитайте среднюю плотность населения:</li> <li>10. Основные отрасли промышленности:</li> <li>11. Основные отрасли сельского хозяйства:</li> </ol>
---	--

2. На контурной карте подпишите названия: искомой страны, ее столицы, соседней страны со столицей, полуострова, на котором находятся данные страны, водных объектов, которыми омывается искомая страна (5 баллов).



### Задача 3 (15 баллов)

Заполните пустые ячейки таблицы, определив профессии или функции специалистов предложенных профессий:

№ п/п	Профессия	Функции специалистов
1		ученый-геолог, который специализируется на изучении поверхности Земли, рельефа местности, его развитии и изменении со временем.
2	Метеоролог	

3		специалист, который изучает природный ландшафт и его особенности, определяет взаимодействие и взаимозависимость всех составляющих элементов.
4	Геолог	
5		учёный, специализирующийся на изучении океана.
6	Картограф	
7		специалист по измерению и картографированию земной поверхности, определяет координаты, границы участков и рельеф местности.
8	Этнограф	
9		геолог, специализирующийся на изучении пещер.
10	Гляциолог	

#### Задача 4 (10 баллов)

Определите государство Европы – X, которое граничит с несколькими другими. Что Вам о нем известно? Определите названия соседних государств и их столиц, если о них известно следующее:

	<b>Описание, географические особенности</b>	<b>Название государства</b>
О первом	Это государство является вторым (после Польши) производителем автомобилей в Восточной Европе, производя 250 000 транспортных средств всех типов в год, в том числе автомобилей и троллейбусов Škoda, грузовых автомобилей и трамваев Tatra, автобусов Karosa.	
О втором	Это страна замков. Здесь их насчитывается около 25 тыс. Самые известные из них – Нойшванштайн и Хоэнцоллерн. Столица этой страны – город музеев. В городе их около 180. Государство является родиной автомобилей, а на современном этапе – лидер в науке и технике. Страна богата лесами. Одним из самых известных является Шварцвальд.	
О третьем	Одна из главных достопримечательностей – Люблянский Град, средневековый замок на холме в центре города. Культурный и экономический центр государства – Любляна, которая известна своей уникальной архитектурой, сочетающей элементы средневекового, ренессансного и барочного стилей.	
О четвертом	Достоевский написал в этом государстве роман «Идиот», Лев Толстой – рассказ «Люцерн», Чайковский – оперу «Евгений Онегин», а Ленин здесь	



	готовил революцию. Это одна из красивейших и богатейших стран мира, большую часть территории которой занимают горы (Альпы и Юра). Население говорит на немецком, французском, итальянском языке и исповедует христианство.	
О пятом	Государство получило независимость в 1993 году после разделения существовавшего до 1993 г. государства на два отдельных. На его территории нет городов-миллионников, много краев и районов, но в ни одном из них численность населения не превышает полумиллиона человек. В 2024 г. в мировом рейтинге государств по уровню жизни эта страна обогнала Италию, Болгарию, Грецию, Венгрию и многие другие страны.	
Искомое государство X		

### Задача 5 (15 баллов)

Машиностроительный комплекс играет важную роль в экономике, обеспечивая своей продукцией нужды материального производства, непроизводственной сферы, обороны и населения.

По фото определите предприятие машиностроения и заполните таблицу (каждая заполненная ячейка – 1 балл).

№ п/п	Предприятие	Название предприятия	Где находится	Продукция предприятия
1				
2				

3				
4				
5	