

**Муниципальный этап всероссийской олимпиады школьников  
2025-2026 учебный год  
География  
7 класс**

Время выполнения всех заданий – 120 минут (2 часа)  
Максимальная оценка – 70 баллов

**Теоретический тур  
Максимальное количество баллов – 50**






Длительность теоретического тура: 90 минут

**Задача 1 (8 баллов)**

У подножия возвышенности атмосферное давление равно 760 мм рт. ст. Какова высота возвышенности, если на вершине наблюдается давление 748 мм рт. ст. Холм это или гора (поясните, почему вы так думаете)?

**Задача 2 (5 баллов)**

**Установите соответствие между контуром острова и его названием:**

<i><b>Остров</b></i>	<i><b>Название</b></i>
А) 	1) Мадагаскар
Б) 	2) Сицилия
В) 	3) Куба
Г) 	4) Великобритания
Д) 	5) Сахалин

### Задача 3 (10 баллов)

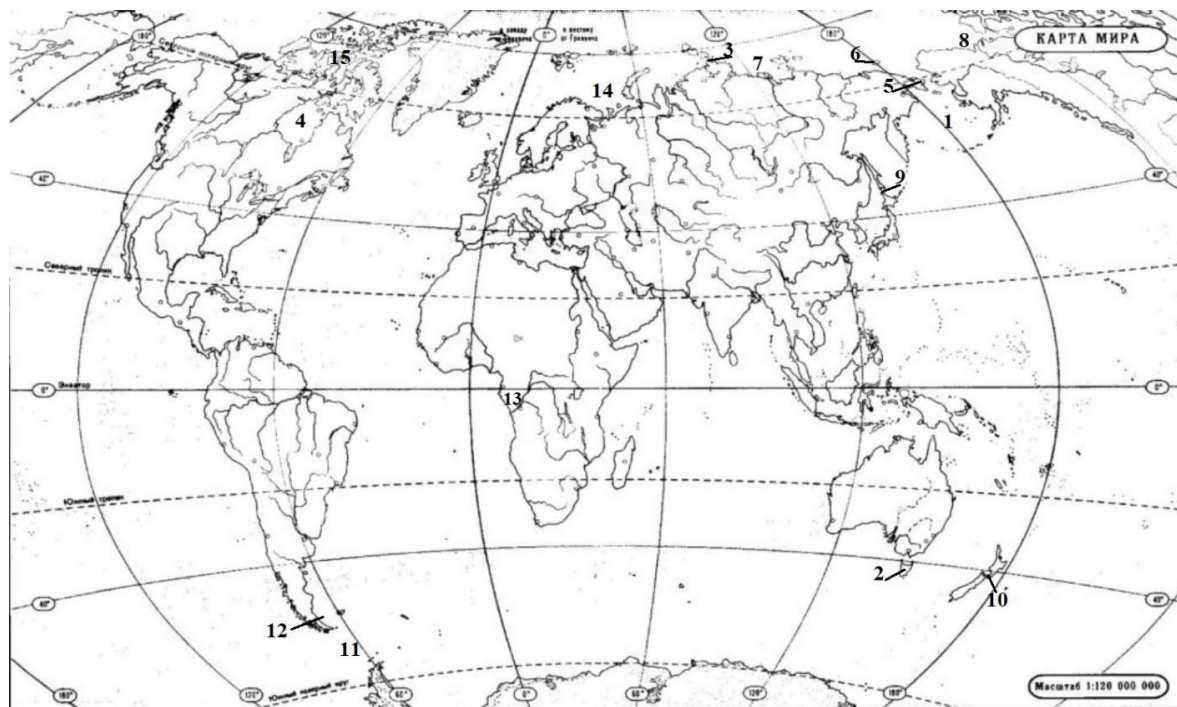
Из пункта А одновременно выехали два мотоциклиста. Один со средней скоростью 60 км/час – в пункт В, другой со средней скоростью 68 км/час – в пункт С. Кто придет первым, если на карте с масштабом 1:1000000 расстояние между пунктами А и В равно 15 см, а между пунктами А и С – 20 см 4 мм?

### Задача 4 (15 баллов)

#### Географические объекты в честь исследователей

Перед вами список известных исследователей и карта, на которой номерами обозначены географические объекты (моря, проливы, заливы и т.д.), названные в честь них. В листе ответов напишите названия географических объектов, названных в честь этих исследователей и номера, которые соответствуют им на карте.

Исследователи	Географические объекты	Номер на карте
Ф. Дрейк Ф. Магеллан С.И. Челюскин В. Беринг А. Тасман Г. Гудзон Ж. Лаперуз С.И. Дежнев В. Баренц Х. и Д. Лаптевы Ф. Бофорт Ф.П. Врангель		



### Задача 5 (12 баллов)

Для выполнения задания используйте топографическую карту.

- 1) Оцените, какую из площадок, обозначенных на карте цифрами 1 и 2, лучше выбрать для сооружения ветровой энергетической установки, предназначенной для аварийного энергоснабжения школы в селе Верхнее. Свой выбор обоснуйте.
- 2) Чему будет равно расстояние от точки А до колодца, если масштаб будет 1:5000?
- 3) Перечислите условные знаки на правом берегу р. Белка

