

**Муниципальный этап всероссийской олимпиады школьников
2025-2026 учебный год**

География

8 класс

Время выполнения всех заданий – 120 минут (2 часа)

Максимальная оценка – 100 баллов

Тестовый тур

Максимальное количество баллов – 30

Длительность тестового тура: 30 минут

Инструкция по выполнению работы:

1. Задания 1-5: выберите один правильный ответ.
2. Задания 6-10: укажите два правильных ответа.
3. Задания 11-15: установите соответствие.
4. Задания 16-20: установите последовательность.

1. Прибор, применяемый для записи колебаний горных пород, вызванных землетрясениями, взрывами, вибрацией или другими причинами:

А) Сейсмограф Б) Георадар В) Магнитометр Г) Манометр

2. В каком из перечисленных городов 22 июня продолжительность светового дня будет наибольшей?

А) Мурманск Б) Рязань В) Ростов-на-Дону Г) Москва

3. С какой из перечисленных стран Россия имеет наиболее протяжённую сухопутную границу:

А) Польша Б) Финляндия В) Литва Г) Монголия

4. В какой период истории владения России существенно расширились на восток?

А) в XII веке Б) в XV веке В) в XVII веке Г) в XVIII веке

5. Укажите ответ с максимальным значением амплитуды температуры воздуха:

А) +5°C и +30°C Б) –15°C и +17°C В) –4°C и +17°C Г) +24°C и –27°C

6. Выберите путешественников-исследователей Мирового океана:

А) Юрий Лисянский Б) Христофор Колумб В) Давид Ливингстон Г) Фернан Магеллан
Д) Александр Маккензи

7. Выберите периоды Кайнозойской эры:

А) Каменноугольный Б) Палеогеновый В) Неогеновый Г) Юрский Д) Меловой

8. Выберите сточные озёра Евразии:

А) Баскунчак Б) Каспийское В) Аральское Г) Онежское Д) Ладожское.

9. Какие утверждения о движении воздушных масс являются верными:

А) Бризы меняют свое направление дважды в день
Б) В тропических широтах господствуют западные ветры

- В) Летом муссоны дуют с океана на материк
 Г) В умеренных широтах господствуют пассаты

10. Выберите горные породы метаморфического происхождения:

- А) Мел Б) Сланец В) Гранит Г) Боксит Д) Мрамор

11. Установите соответствие между исследователями и их открытиями:

Исследователь

- А) Ф. Беллинсгаузен и М. Лазарев
 Б) Р. Пири
 В) Р. Амундсен
 Г) Васко да Гама

Исследования

- 1) Покорение Южного полюса
 2) Морской путь в Индию вокруг Африки
 3) Открытие Антарктиды
 4) Первое кругосветное плавание
 5) Покорение Северного полюса

12. Установите соответствие между температурами воздуха и амплитудой температур:





Температуры воздуха

- А) -24°C и -44°C
 Б) -16°C и $+14^{\circ}\text{C}$;
 В) -24°C и $+16^{\circ}\text{C}$;
 Г) $+3^{\circ}\text{C}$ и $+13^{\circ}\text{C}$;

Амплитуда температур

- 1) 10°C
 2) 20°C
 3) 30°C
 4) 40°C
 5) 50°C

13. Установите соответствие между контуром острова и его названием:

<i>Остров</i>	<i>Название</i>
А) 	1) Мадагаскар
Б) 	2) Сицилия
В) 	3) Куба
Г) 	4) Великобритания
	5) Сахалин

14. Установите соответствие между масштабом и расстоянием на карте (на местности 1000 м):

<i>Масштаб</i>	<i>Расстояние на карте</i>
А) М 1: 20000	1) 10 см
Б) М 1: 10000	2) 3 см
В) в 1 см – 250 м	3) 1 см
Г) в 1 см – 1 км	4) 5 см
	5) 4 см

15. Установите соответствие между названием реки Евразии и бассейном океана, к которому она относится:

<i>Река</i>	<i>Океан</i>
А) Дон	1) Тихий океан
Б) Енисей	2) Индийский океан
В) Тигр	3) Северный Ледовитый океан
Г) Амур	4) Атлантический океан

16. Расположите регионы России в той последовательности, в которой их жители встречают Новый год:

- А) Республика Карелия
- Б) Свердловская область
- В) Забайкальский край
- Г) Калининградская область

17. Расположите реки Евразии с запада на восток:

- А) Амур Б) Волга В) Лена Г) Дунай

18. Расположите страны, граничащие с Россией, с востока на запад:

- А) Грузия Б) Польша В) Монголия Г) Казахстан

19. Расположите материки с востока на запад, начиная от Линии перемены дат:

- А) Южная Америка Б) Евразия В) Африка Г) Австралия

20. Расположите океаны по мере увеличения их максимальной глубины:

- А) Индийский океан
- Б) Северный Ледовитый океан
- В) Тихий океан
- Г) Атлантический океан